

Adı :
Soyadı:

1. Sınıf
Matematik


Çıkarma İşlemi
Alıştırmalar-5

Çıkarma işlemlerini örneğe göre yapınız.



3 tanesi yedik. Kaç
tane kaldı?

-




5 tanesi kırıldı. Kaç
tane sağlam kaldı?

-



4 tanesi uçtu gitti.
Kaç tane kaldı?

-




3 tanesi kayboldu.
Kaç tane kaldı?

-

Adı :
Soyadı:

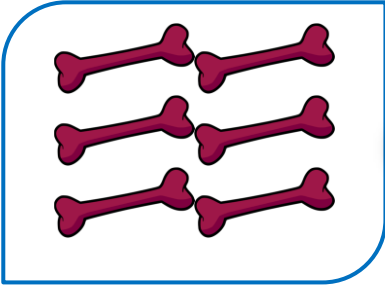
1. Sınıf
Matematik

Çıkarma İşlemi
Alıştırmalar-5



6 tanesi satıldı. Kaç
tane kaldı?

-




6 tanesini köpek
yedi. Kaç tane kaldı?

-



4 tanesi eridi. Kaç
tane kaldı?

-



2 tanesi soldu. Kaç
tane kaldı?

-



3 tanesi patladı. Kaç
tane sağlam kaldı?

-